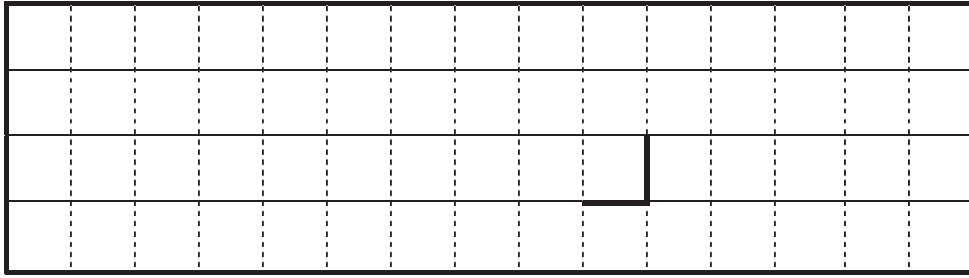



(2) ③ 12 時




15 時



(3) _____ km/h

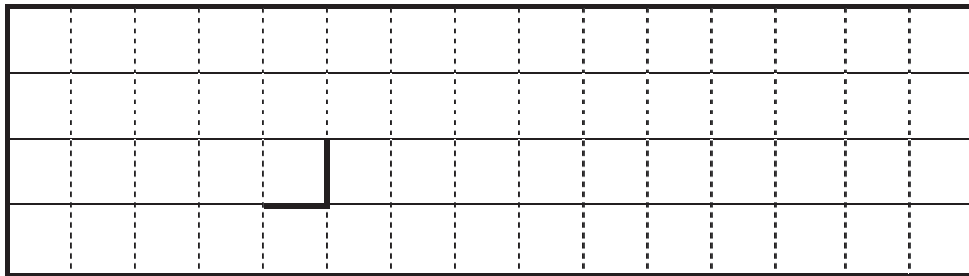
(4) ① 時刻 A : _____ 時 _____ 分 時刻 B : _____ 時 _____ 分

②



③ _____

④



⑤ ① 時刻 _____ ② 時刻 _____ ③ 時刻 _____

⑥ _____

切り離さないでください

この部分(実線の左側)に書かれた解答は採点しません

切り離さないでください