

持ち帰り禁止

受験番号

--	--	--	--	--	--

フリガナ

氏 名

採点欄

--

切り離さないでください

問 1

- (1) ① _____ ② _____ ③ _____
 ④ _____ ⑤ _____ ⑥ _____
 ⑦ _____ ⑧ _____ ⑨ _____
 ⑩ _____ ⑪ _____

(2)

前	線	上	の	波	動	の	周	辺	で	は	、												

- (3) ① 上端の気圧： _____ hPa 厚さ： _____ hPa
 上端の高度： _____ m 厚さ： _____ m
- ② 分母 F： _____ 水平幅： _____ km

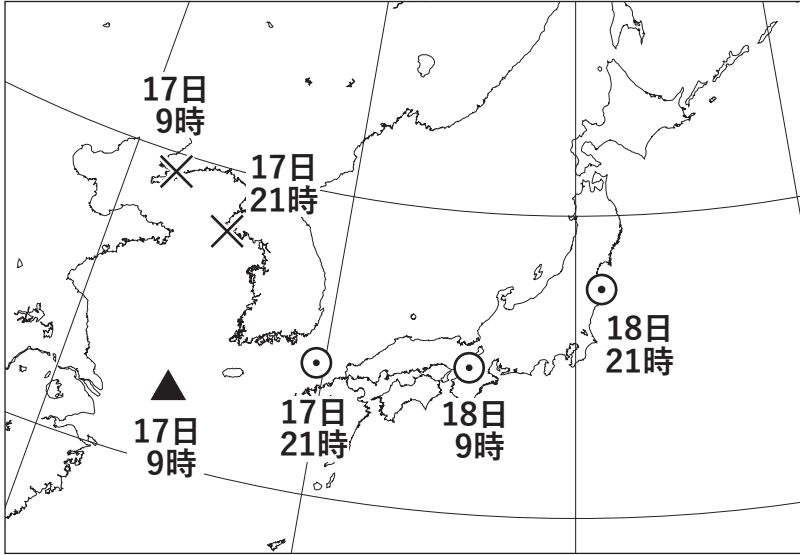
③

切り離さないでください

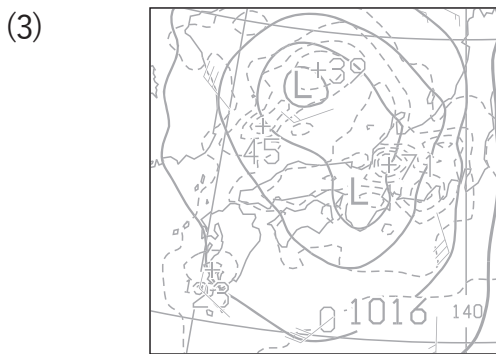
(3) ④

切り離さないでください

問2
(1)



- (2) ① _____ ② _____
 ③ _____ ④ _____



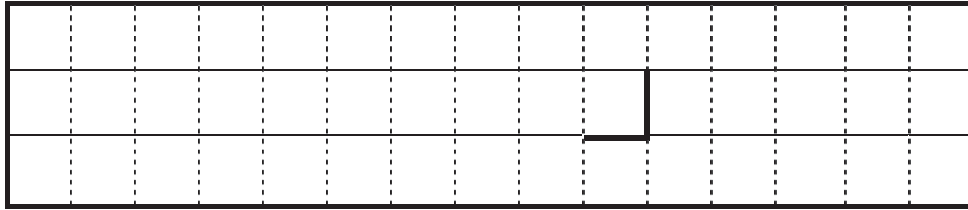
- (4) ① _____ ② _____ ③ _____
 ④ _____ ⑤ _____ ⑥ _____

切り離さないでください

問 3

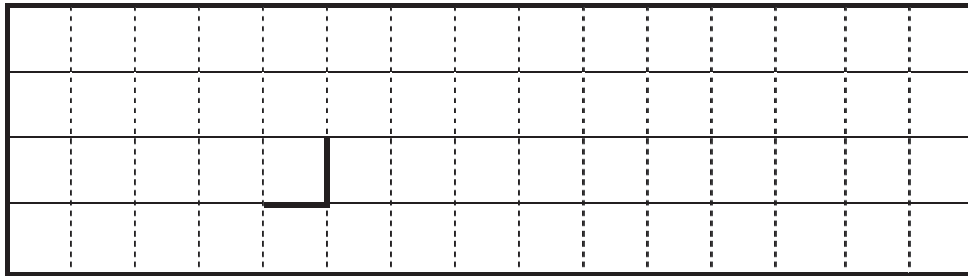
(1) 温暖前線が通過した時刻： _____ 時 _____ 分

温暖前線通過と判断した気象要素の変化



寒冷前線が通過した時刻： _____ 時 _____ 分

寒冷前線通過と判断した気象要素の変化

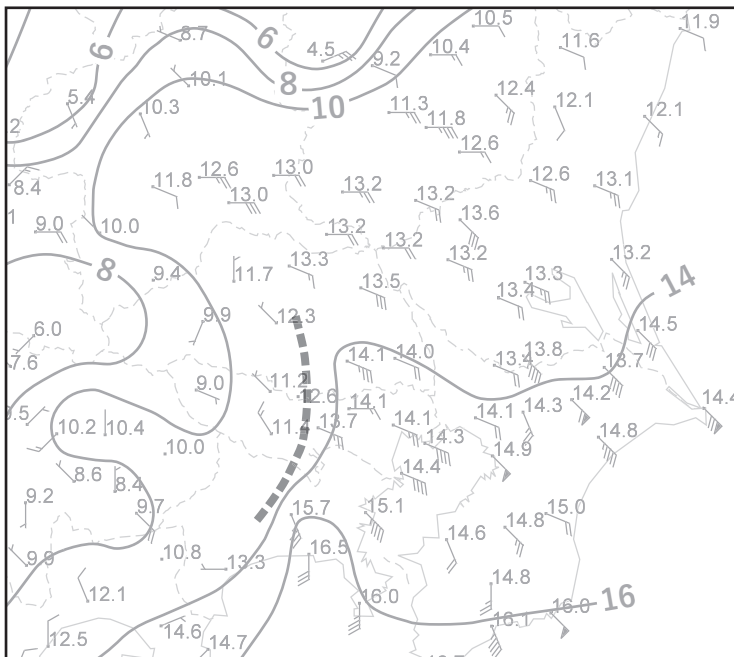


(2) 寒冷前線が御前崎を通過した時刻： _____ 時 _____ 分

大島を通過すると考えられる時刻： _____ 時 _____ 分

問 4

(1) ①

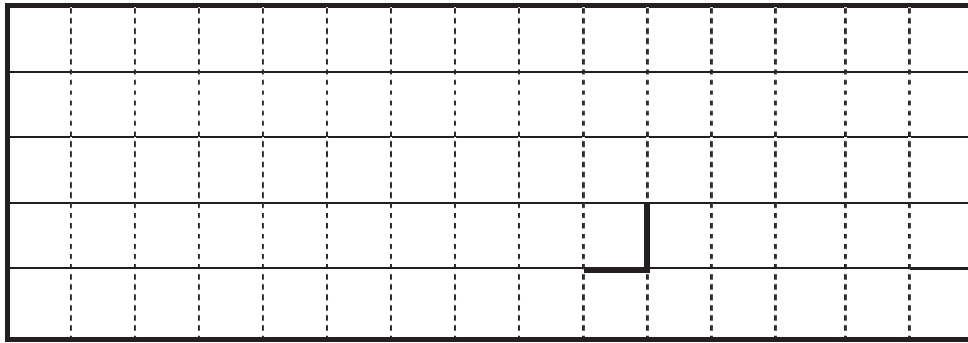


切り離さないでください

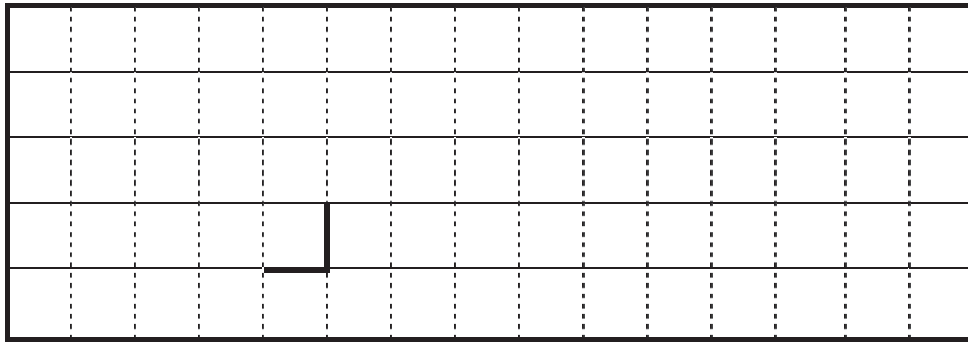
この部分(実線の左側)に書かれた解答は採点しません

切り離さないでください

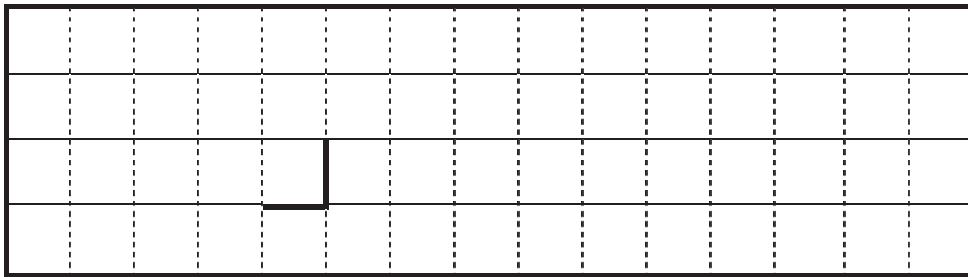
(1) ② 風の特徴



気温の特徴



③



(2) ① _____ ② _____ ③ _____

④ _____ ⑤ _____ ⑥ _____

⑦ _____

(3) 東京都八王子市 : _____ 神奈川県相模原市 : _____

切り離さないでください

この部分(実線の左側)に書かれた解答は採点しません

切り離さないでください