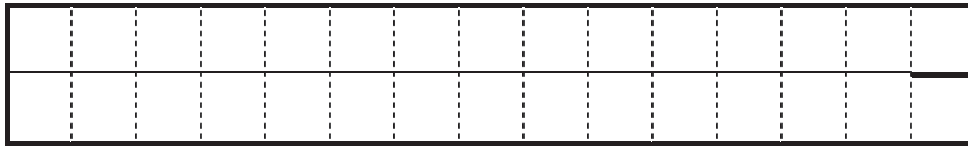



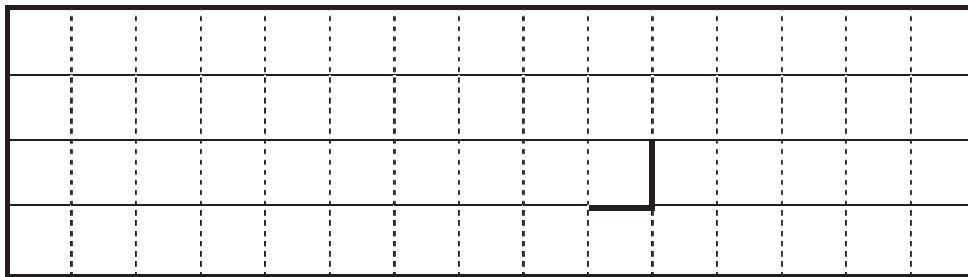
② トラフとの位置関係



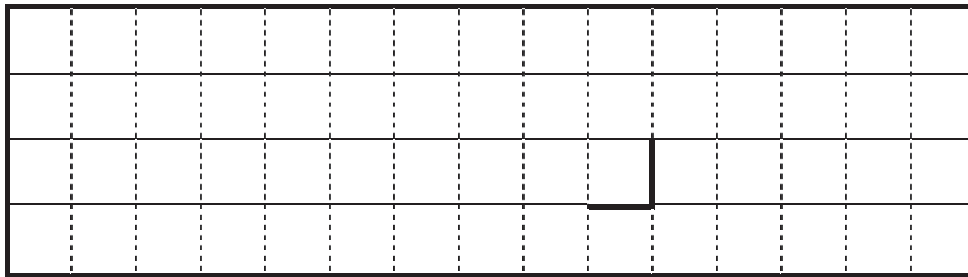
雲の連なる方向や位置



③ 雲域B




雲域C



問2

(1) ① 東経 _____ °

②

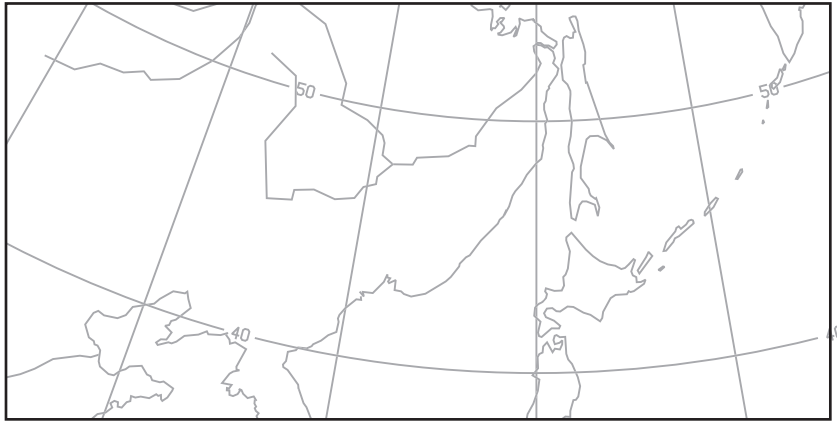


切り離さないでください

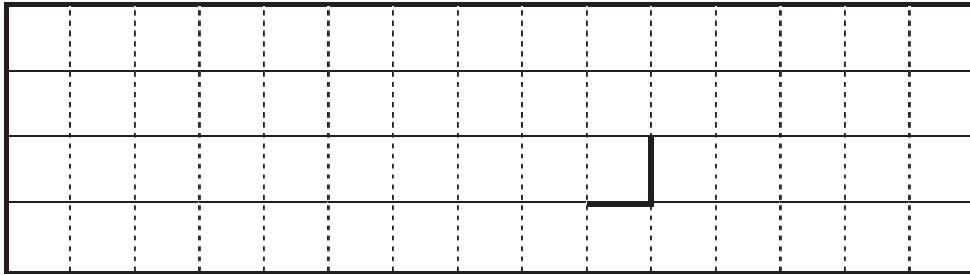
この部分(実線の左側)に書かれた解答は採点しません

切り離さないでください

(2) ①

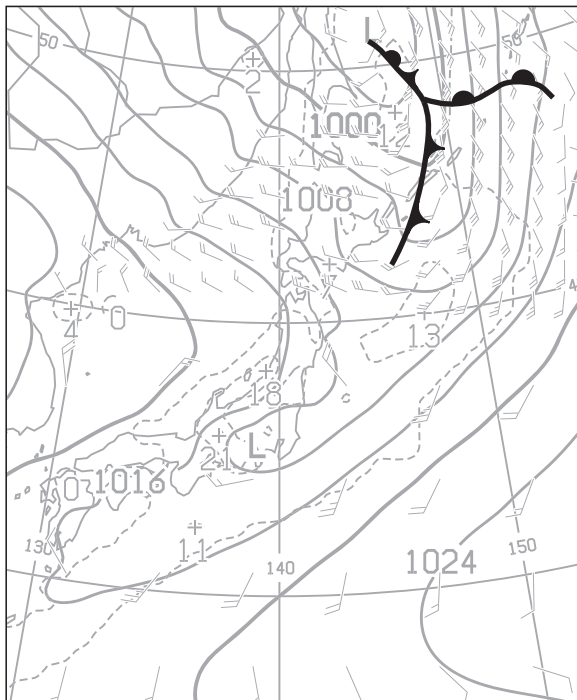


②



③ _____

(3)



(4) ① _____

② _____

③ _____

④ _____

⑤ _____

⑥ _____

⑦ _____

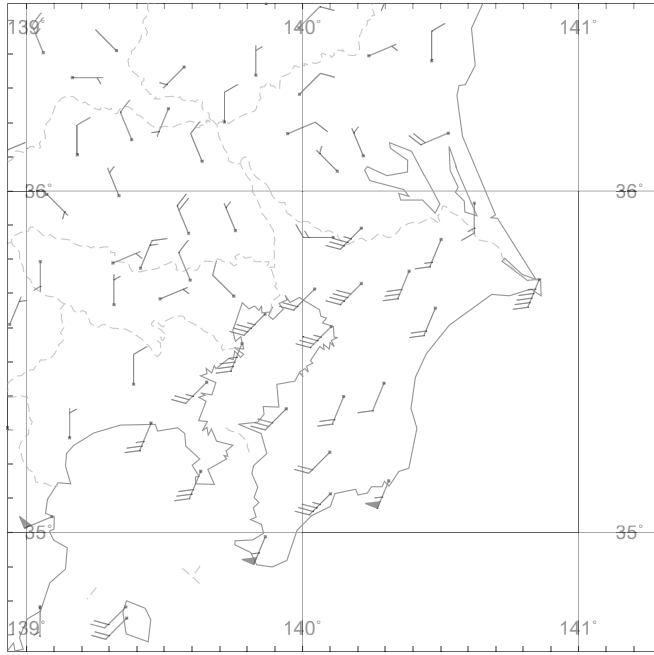
切り離さないでください

この部分(実線の左側)に書かれた解答は採点しません

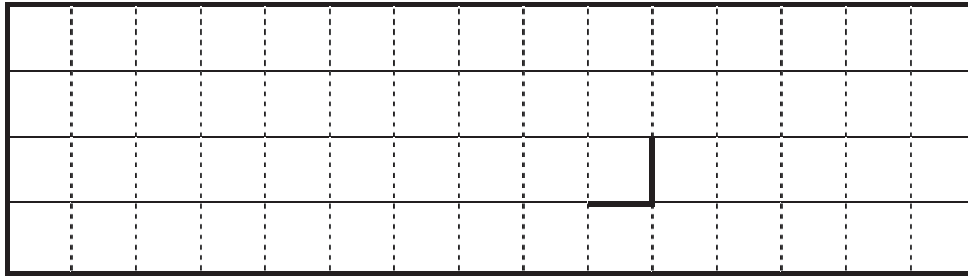
切り離さないでください

問 3

(1) ①



②



(2) ① _____ ② _____ ③ _____

④ _____ ⑤ _____ ⑥ _____

⑦ _____ ⑧ _____ ⑨ _____

⑩ _____

(3) _____

(4) ① 上端の気圧 _____ hPa 厚さ _____ hPa

上端の高度 _____ m 厚さ _____ m

② 分母F _____ 水平幅 _____ km

切り離さないでください

この部分(実線の左側)に書かれた解答は採点しません

切り離さないでください