

持ち帰り禁止

受験番号

--	--	--	--	--	--

フリガナ

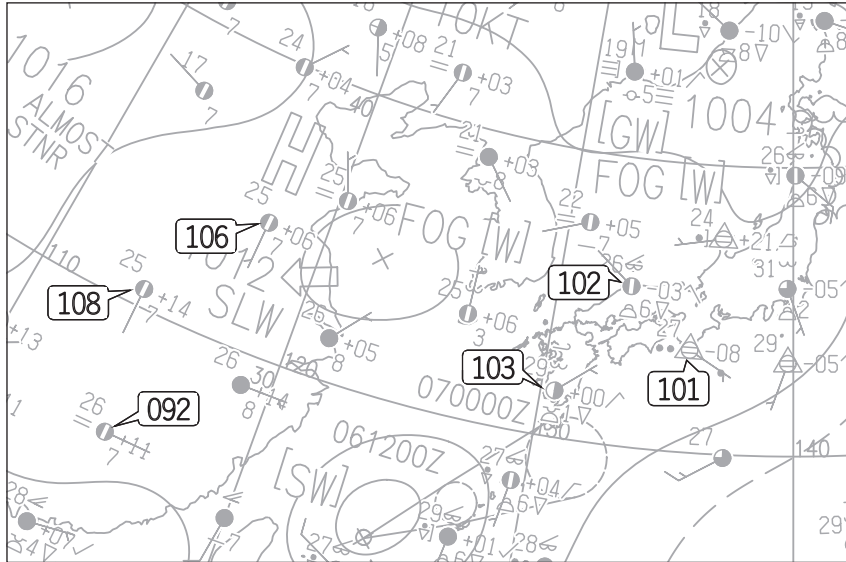
氏名

採点欄

--

問 1

(1)



(2) ① _____ ② _____ ③ _____

④ _____ ⑤ _____ ⑥ _____

⑦ _____ ⑧ _____ ⑨ _____

(3) 雲分布の特徴

風速分布の特徴


切り離さないでください

この部分(実線の左側)に書かれた解答は採点しません

切り離さないでください


(4) ① 等高線 : _____ m

位置関係

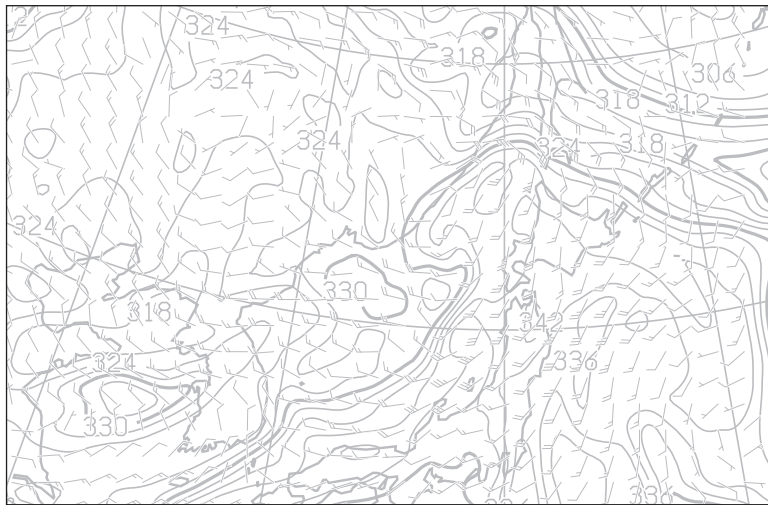


② 東経 _____ °

発達する可能性とその根拠



③



問 2

(1) 24時間後 : 東経 _____ ° 48時間後 : 東経 _____ °

(2) ①
 (a) _____ (b) _____ (c) _____

(d) _____ (e) _____ (f) _____

(g) _____ (h) _____ (i) _____

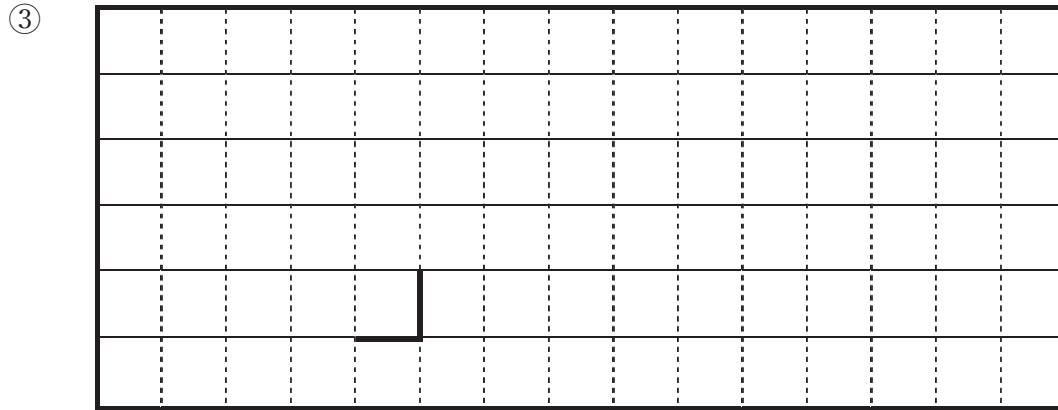
切り離さないでください

この部分(実線の左側)に書かれた解答は採点しません


切り離さないでください

② 正渦度極大値 : _____ 方角 : _____


8日9時 : 北緯 _____ ° 東経 _____ °




④ 進路




中心気圧と盛衰



(3) 熱帯じょう乱



北陸付近の低気圧



切り離さないでください

この部分(実線の左側)に書かれた解答は採点しません

切り離さないでください

問 3

(1) ① _____ ② _____ ③ _____

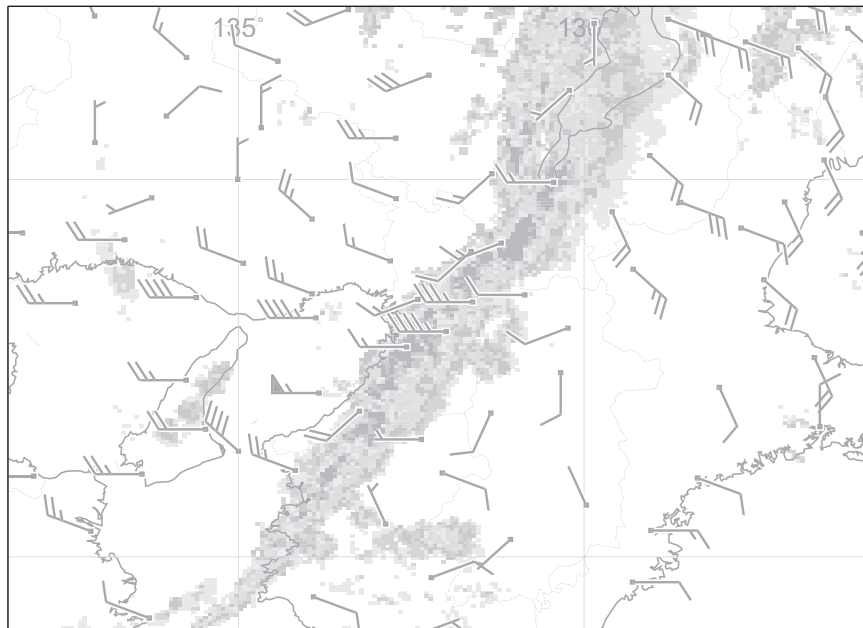
④ _____ ⑤ _____ ⑥ _____

⑦ _____ ⑧ _____ ⑨ _____

(2) (イ) _____ (ウ) _____

(3) 組み合わせ : _____ 時刻 : _____

(4) シアーライン



位置

切り離さないでください

この部分(実線の左側)に書かれた解答は採点しません

切り離さないでください