

持ち帰り禁止

受験番号

--	--	--	--	--	--

フリガナ

氏名

フリガナ
氏名

採点欄

--

切り離さないでください

問 1

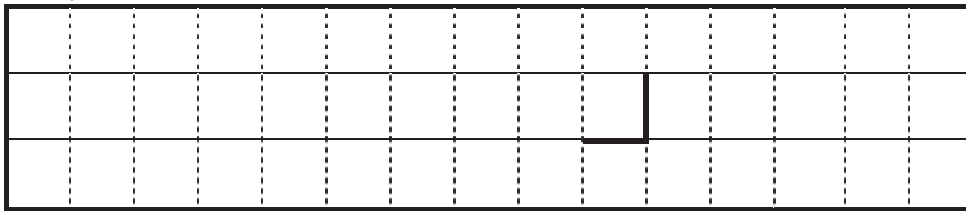
(1) ① _____ ② _____ ③ _____

④ _____ ⑤ _____ ⑥ _____


⑦ _____ ⑧ _____

(2) ① _____ ② _____ ③ _____ ④ _____

(3) ① 6日9時



2日9時



② 6日9時の気圧の谷(トラフ)の位置: _____

2日9時の気圧の谷(トラフ)の位置: _____

③ 風速の大きい日: _____ 日 主な風向: _____

④ 降水域は、相当温位の _____ ところに対応している。

降水域アにおける風速は、降水域イと比較して、 _____

この部分(実線の左側)に書かれた解答は採点しません


切り離さないでください

(3) ① 北緯 _____ °

②

強	雨	域	は	,															

(4) ① 前 3 時間降水量の最大値 : _____ mm 時刻 : _____ 時



③ _____

④ _____

(5) ① _____ ② _____ ③ _____

④ _____ ⑤ _____ ⑥ _____

⑦ _____

切り離さないでください

この部分実線の左側に書かれた解答は採点しません

切り離さないでください