

受験番号

--	--	--	--	--	--

フリガナ

氏名

フリガナ
氏名

持ち帰り  
禁止


問 1

- (1) ① \_\_\_\_\_ ② \_\_\_\_\_ ③ \_\_\_\_\_  
 ④ \_\_\_\_\_ ⑤ \_\_\_\_\_ ⑥ \_\_\_\_\_  
 ⑦ \_\_\_\_\_ ⑧ \_\_\_\_\_

(2) ① 地点 A : \_\_\_\_\_ 地点 B : \_\_\_\_\_

② \_\_\_\_\_

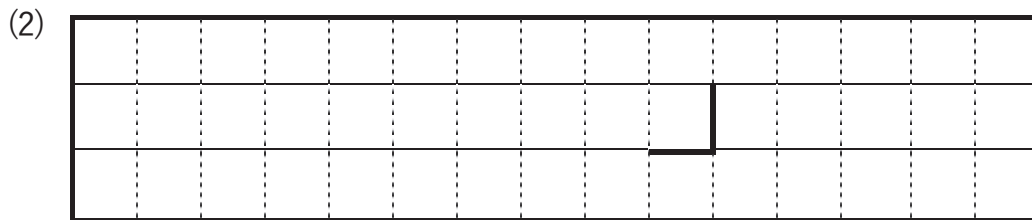
理由 :



③ \_\_\_\_\_ °C/h


問 2

(1) 12 時間後 : 東経 \_\_\_\_\_ °    24 時間後 : 東経 \_\_\_\_\_ °



(3) 等高線 : \_\_\_\_\_ m

理由 :

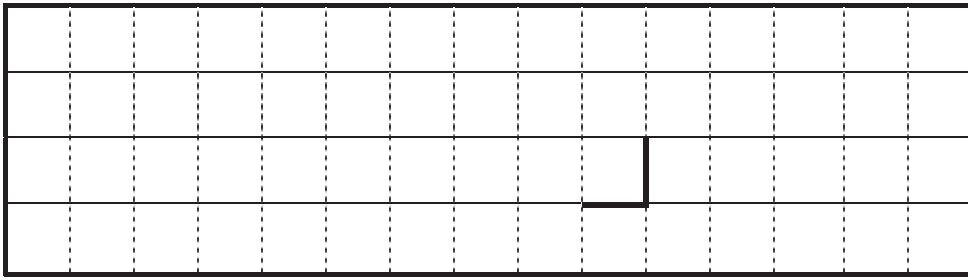


切り離さないでください


この部分実線の左側に書かれた解答は採点しません

切り離さないでください

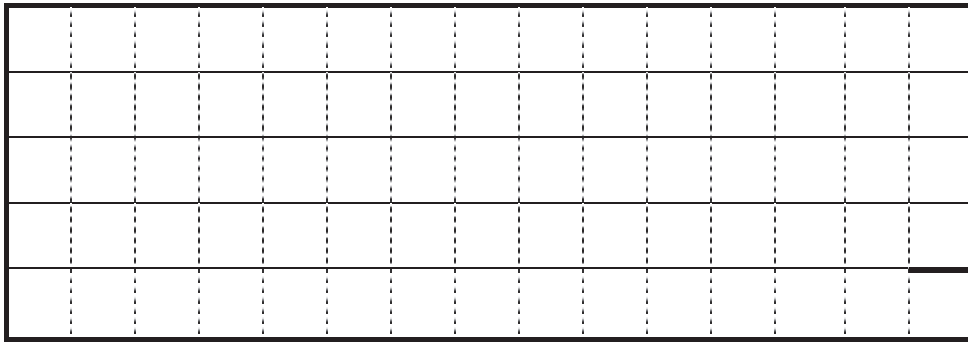
(4) ①



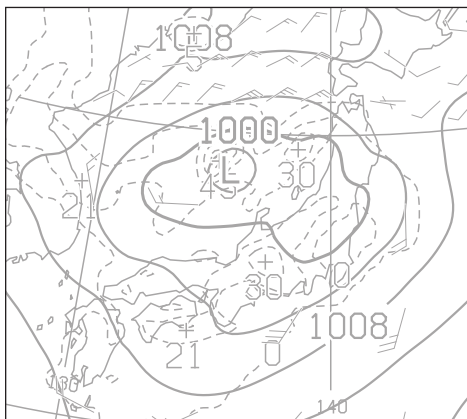
② 温度移流:



鉛直流:



(5)



切り離さないでください

この部分実線の左側に書かれた解答は採点しません

切り離さないでください

(6) ① 北緯 \_\_\_\_\_ ° 東経 \_\_\_\_\_ °

② 移動の方向: \_\_\_\_\_ 移動の速さ: \_\_\_\_\_ ノット

中心気圧の変化量: \_\_\_\_\_ hPa

③ \_\_\_\_\_

### 問 3

(1) ① 雲底の高度: \_\_\_\_\_ hPa

等値線等の名称: \_\_\_\_\_

② 自由対流高度: \_\_\_\_\_ hPa

浮力がなくなる高度: \_\_\_\_\_ hPa

雲頂の気温: \_\_\_\_\_ °C

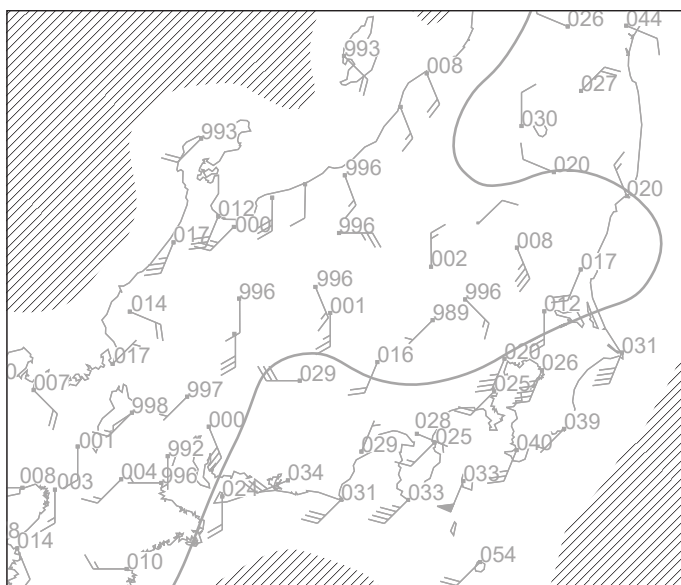
(2) 高度: \_\_\_\_\_ hPa 相対湿度: \_\_\_\_\_ %

(3) ① \_\_\_\_\_ ② \_\_\_\_\_

③ \_\_\_\_\_ ④ \_\_\_\_\_ ⑤ \_\_\_\_\_

### 問 4

(1)(2)



切り離さないでください

この部分実線の左側に書かれた解答は採点しません

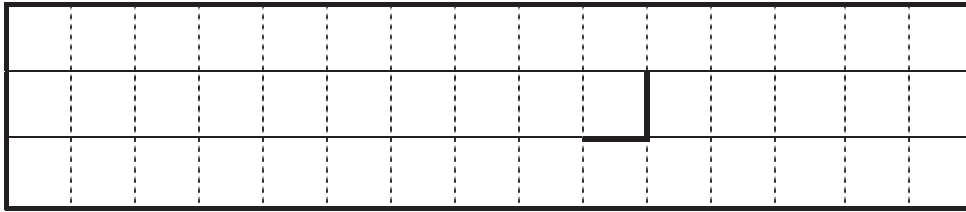
切り離さないでください

### 問5

(1) 地上気圧：



850hPa 気温：

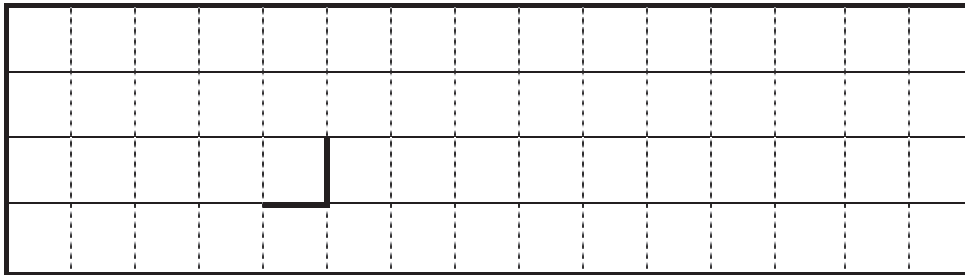


(2) ① \_\_\_\_\_ km/h

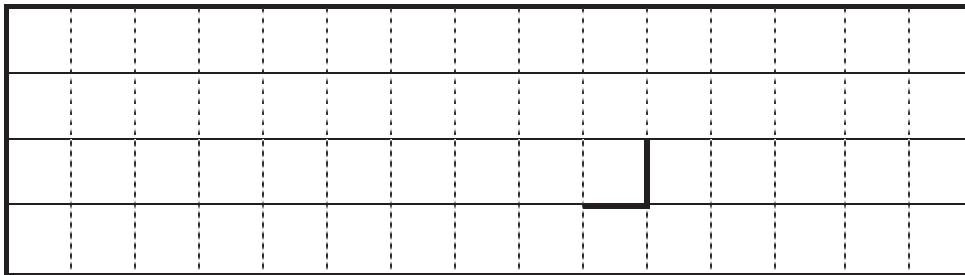
② \_\_\_\_\_ 分

(3) ① \_\_\_\_\_ 時 \_\_\_\_\_ 分 突風率： \_\_\_\_\_

② 気温：



気圧：



(4) \_\_\_\_\_

(5) \_\_\_\_\_

切り離さないでください

この部分実線の左側に書かれた解答は採点しません

切り離さないでください